

**T.C.
MİLLÎ EĞİTİM BAKANLIĞI**

EL SANATLARI TEKNOLOJİSİ

**TIĞ ÖRÜCÜLÜĞÜNDE TEKNİKLERİ
BİRLEŞTİREREK
DESEN OLUŞTURMA
215ESB483**

Ankara ,2011

- Bu modül, mesleki ve teknik eğitim okul / kurumlarında uygulanan Çerçeve Öğretim Programlarında yer alan yeterlikleri kazandırmaya yönelik olarak öğrencilere rehberlik etmek amacıyla hazırlanmış bireysel öğrenme materyalidir.
- Milli Eğitim Bakanlığınca ücretsiz olarak verilmiştir.
- **PARA İLE SATILAMAZ.**

İÇİNDEKİLER

AÇIKLAMALAR	4
GİRİŞ	6
ÖĞRENME FAALİYETİ -1	7
1. DEMET YAPMA TEMEL İŞLEMİYLE DESEN OLUŞTURMA.....	7
1.1.Tanım	7
1.2.Düğümlü İlmeklerden Desen Oluşturmak.....	7
1.2.1.Tanım	7
UYGULAMA FAALİYETİ.....	8
ÖLÇME VE DEĞERLENDİRME.....	22
ÖĞRENME FAALİYETİ -2	23
2.ÜSTTEN ARTIRMA TEMEL İŞLEMİYLE.....	23
DESEN OLUŞTURMA	23
2.1.Tanım	23
2.2. Britlere Değişik Şekillerde Batarak Desen Oluşturma.....	24
2.2.1.Tanımı	24
UYGULAMA FAALİYETİ.....	25
ÖLÇME DEĞERLENDİRME	46
ÖĞRENME FAALİYETİ- 3	47
3.TIĞ İLE PİKO YAPMA	47
3.1.Tanım	47
3.1.1.Zincir Pikolar.....	47
3.1.2. Sivri pikolar.....	47
UYGULAMA FAALİYETİ.....	49
ÖLÇME DEĞERLENDİRME	65
ÖĞRENME FAALİYETİ-4	66
4.ZİNCİR DESENLER YAPMA.....	66
4.1.Tanımı	66
4.2.Tunus İlmeği Temel İşlemiyle Desen Oluşturmak	67
4.2.1.Tanımı	67
UYGULAMA FAALİYETİ.....	68
ÖLÇME DEĞERLENDİRME	82
MODÜL DEĞERLENDİRME	83
CEVAP ANAHTARLARI.....	85
KAYNAKÇA	87

AÇIKLAMALAR

KOD	215ESB483
ALAN	El Sanatları Teknolojisi
MESLEK/ DAL	Dekoratif el sanatları
MODÜL ADI	Tığ örücülüğünde teknikleri birleştirerek desen oluşturma
MODÜLÜN TANIMI	Tığ örücülüğünde teknikleri birleştirerek desen oluşturmanın anlatıldığı öğrenme materyalidir.
MODÜLÜN SÜRESİ	40/32
ÖN KOŞUL	Kroşe çeşitlerinden farklı dokular oluşturma modülünü almı olmak.
YETERLİK	Tığ örücülüğünde, teknikleri birleştirerek desen oluşturmak
MODÜLÜN AMACI	<p>Genel Amaç: Bu modül ile gerekli ortam sağlandığında demet yapma temel işlemiyle desenler oluşturabilmeyi, düğümlü ilmeklerden desenler oluşturabilmeyi, üstten artırma temel işlemiyle desenler oluşturabilmeyi, britlere değişik şekillerde batarak desenler oluşturabilmeyi, tığ ile piko yapabilmeyi, zincir desenler yapabilmeyi ve tunus ilmeği temel işlemiyle desenler yapabileceksiniz.</p> <p>Amaç:</p> <ol style="list-style-type: none">1. Tekniğe uygun olarak, demet yapma temel işlemiyle, düğümlü ilmeklerden desen uygulayabileceksiniz.2. Tekniğe uygun olarak, tığ örücülüğünde kullanılan üstten artırma temel işlemiyle desen oluşturma ve britlere değişik şekillerde batarak desen oluşturma işlemlerini yapabileceksiniz.3. Tekniğe uygun olarak, tığ örücülüğünde kullanılan pikoların yapılışını uygulayabileceksiniz4. Tekniğe uygun olarak, tığ örücülüğünde kullanılan zincir desenleri ve Tunus İlmeği Temel İşlemiyle Desen Oluşturma işlemlerini uygulayabileceksiniz
EĞİTİM ORTAMLARI VE DONANIMLAR	<p>Ortam: Aydınlık Ortam</p> <p>Donanım: Tığ çeşitleri, iplik çeşitleri, makas, cetvel, iğne vb.</p>

**ÖLÇMEVE
DEĞERLENDİRME**

Modül içinde yer alan her öğrenme faaliyetinden sonra verilen ölçme araçları ile kendinizi değerlendireceksiniz. Öğretmen modül sonunda ölçme aracı (çoktan seçmeli test, doğru-yanlış testi, boşluk doldurma, eşleştirme vb.) kullanarak modül uygulamaları ile kazandığınız bilgi ve becerileri ölçerek sizi değerlendirecektir.

GİRİŞ

Sevgili Öğrenci,

Tığ örücülüğü, zengin ve yaratıcılığa açık bir örücülük sanatıdır. Basit bir teknikle yaratılan ilmeklerin yan yana, yatay, dikey, çapraz birleşmeler ve tekrarlarla biraraya getirilmesiyle ortaya büyüleyici çalışmalar çıkar.

Bu örücülük sanatının en büyük avantajı tek bir araç yardımı ile birçok farklı çalışma üretilir. Tığ örücülüğü ister sanat için ister ekonomik fayda sağlamak için yapılsın insanı rahatlatır, kolay ve çok zevkli çalışmadır.

Siz bu faaliyeti, başarı ile tamamladığınızda, Tığ örücülüğündeki teknikleri birleştirerek ne kadar çok desen çeşidi olduğunu göreceksiniz ve uygulamasını yapabileceksiniz.

ÖĞRENME FAALİYETİ-1

AMAÇ

- Öğrenme faaliyetinde kazandırılacak bilgi ve beceriler doğrultusunda demet yapma temel işlemiyle ve Düğümlü ilmeklerden oluşturulan desenleri uygulayabileceksiniz.

ARAŞTIRMA

- Demet yapma temel işlemiyle oluşturulan desenleri araştırınız.
- Düğümlü ilmeklerden oluşturulan desenleri araştırınız.
- Görsel ve basılı kaynaklardan faydalanınız.

1. DEMET YAPMA TEMEL İŞLEMİYLE DESEN OLUŞTURMAK

1.1.Tanım

Demet yapma temel işlemiyle oluşturulan desenler, demetlerin üst üste, birbirinin arasına veya çapraz şekillerde uygulanmasıyla oluşturulan desenlerdir.

Demet yapma temel işlemiyle oluşturulan desenler;

- **İran ilmeği:** Zincir altından batarak ve tek yönlü uygulanır
- **Papatya ilmek:** Zincir altından batarak ve tek yönlü uygulanır.
- **Demet ilmek:** Çift kroşe ve demet ilmeğin bir arada kullanılmasıyla oluşturulan desen olmak üzere üç şekilde uygulanır.

1.2.Düğümlü İlmeklerden Desen Oluşturmak

1.2.1.Tanım





Tığ örücülüğünde, motiflerde ve dantel çalışmalarında farklı desenler üretirken düğüm ilmeklerden de faydalanılır. Bu desenler düğüme benzediğinden bu ismi almışlardır.





Düğüm ilmekler;





- **Battaniye ilmek :** Battaniye ilmek, tığa iplik dolayıp temel zincire batırarak ve çekilen ilmeği yanındaki ilmek içinden geçirdikten sonra çift kroşe yapılarak oluşturulan bir desen çeşididir.Çift yönlü uygulanır.
- **Düğüm ilmek:** Düğüm ilmek, battaniye ilmek deseninin tek yönlü uygulanmasıyla meydana gelir. olmak üzere iki farklı şekilde uygulanır.




UYGULAMA FAALİYETİ-1


Aşağıda İran İlmeği uygulamasını yapınız.

İşlem Basamakları	Öneriler
<p>➤ Zincir çekiniz.</p>	<p>➤ İsteddiğiniz uzunlukta zincir çekiniz.</p>
<p>➤ İşlem yüksekliğini vermek için tıgı, temel zincirden geriye doğru ikinci zincirin ortasına batırınız. Resim 1.1.1. Şekil 1.1.1.</p>	 <p>Resim1.1.1</p>  <p>Şekil 1.1.1</p>
<p>➤ Bir yüz ilmek çekiniz. Resim 1.1.2</p>	 <p>Resim 1.1.2</p>
<p>➤ Tıgı tekrar üçüncü temel zincirin ortasına batırınız. Resim 1.1.3. - Resim 1.1.4.</p>	 <p>Resim 1.1.3.</p>

	 <p>Resim 1.1.4.</p> <ul style="list-style-type: none">➤ Tıgın üzerinde üç ilmek olmasına dikkat ediniz➤ Tıgın üzerinde dört ilmek olmasına dikkat ediniz.
<ul style="list-style-type: none">➤ Tığa bir ilmek dolayınız. Resim 1.1.5.	 <p>Resim 1.1.5</p>
<ul style="list-style-type: none">➤ Tığa doladığınız ipi üç ilmek içinden geçiriniz. Resim 1.1.6.	<ul style="list-style-type: none">➤ Tıg üzerinde tek ilmek kalmasına dikkat ediniz.  <p>Resim 1.1.6.</p>
<ul style="list-style-type: none">➤ Tıgı temel zincirden son battığınız ilmek içine batırınız. Resim 1.1.7.	 <p>Resim 1.1.7.</p>

<ul style="list-style-type: none">➤ Bir yüz ilmek çekiniz.➤ Tıđı tekrar dördüncü temel zincirin ortasına batırınız. Resim 1.1.8. Resim 1.1.9.	<ul style="list-style-type: none">➤ Tıđın üzerinde iki ilmek olmasına dikkat ediniz  <p style="text-align: center;">Resim 1.1.8</p>  <p style="text-align: center;">Resim 1.1.9</p>
<ul style="list-style-type: none">➤ Bir yüz ilmek çekiniz. Resim 1.1.10	<ul style="list-style-type: none">➤ Tıđın üzerinde üç ilmek olmasına dikkat ediniz  <p style="text-align: center;">Resim 1.1.10.</p>
<ul style="list-style-type: none">➤ Tıđa bir ilmek dolayınız. Resim 1.1.11.	<ul style="list-style-type: none">➤ Tıđın üzerinde dört ilmek olmasına dikkat ediniz.  <p style="text-align: center;">Resim 1.1.11.</p>




<p>➤ Tığa doladığımız ipi üç ilmek içinden geçiriniz. Resim 1.1.12.</p>	<p>➤ Tığ üzerinde tek ilmek kalmasına dikkat ediniz.</p>  <p>Resim 1.1.12.</p>
<p>➤ Temel zincirlere sırasıyla batarak işlem basamağından itibaren sıranın sonuna kadar tekrarlayınız. Resim 1.1.13.</p>	 <p>Resim 1.1.13.</p> <p>➤ Sıranın sonunda ipliğinizi koparmayı unutmayınız.</p>
<p>➤ Sıra başında işlem yüksekliği vermek için bir zincir çekiniz. Resim 1.1.14.</p>	 <p>Resim 1.1.14.</p>
<p>➤ Birinci sıra işlemlerini tekrarlayınız.</p>	<p>➤ Sıra sonunda ipinizi koparmayı unutmayınız.</p>



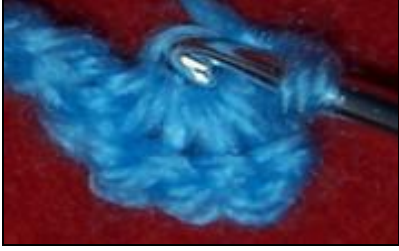







Resim 1.15. İran İlmegi





UYGULAMA FAALİYETİ-2



Aşağıda Papatya İlmek Zincir altından batarak ve tek yönlü uygulayınız.

İşlem Basamakları	Öneriler
<p>➤ Zincir çekiniz.</p>	<p>➤ İsteddiğiniz uzunlukta zincir çekiniz.</p>
<p>➤ Temel zincirden geriye doğru 1. 2. 3. ve 4.ilmeklerin ortalarından birer yüz ilmek çıkartınız. Resim 1.2.16.</p>	<p>➤ Tığ üzerinde beş ilmek olmasına dikkat ediniz.</p>  <p>Resim 1.2.16.</p>
<p>➤ Tığa bir ilmek dolayınız.</p>	<p>➤ Tığ üzerinde altı ilmek olmasına dikkat ediniz.</p>  <p>Resim 1.2.17.</p>
<p>➤ Tığa doladığımız ipi beş ilmek içinden geçiriniz. Resim 1.2.18.</p>	<p>➤ Tığın üzerinde tek ilmek kalmasına dikkat ediniz</p>  <p>Resim 1.2.18.</p>

<p>➤ Tığdaki tek ilmeği ters ilmekle kapatınız. Resim 1.2.19. Resim 1.2.20.</p>	 <p>Resim 1.2.19.</p>  <p>Resim 1.2.20.</p>
<p>➤ İkinci papatyayı yaparken tığ, beş ilmeği ters ilmekle topladığınız tepe noktasına batırınız. Resim 1.2.21.</p>	 <p>Resim 1.2.21.</p>
<p>➤ Bir yüz ilmek çekiniz. Resim 1.2.22.</p>	<p>➤ Tığın üzerinde iki ilmek olmasına dikkat ediniz</p>  <p>Resim 1.2.22.</p>

<p>➤ Tığı birinci demetin son ilmeğini yaparken temel zincirde batırdığımız yere tekrar batırınız. Resim 1.2.23.</p>	 <p>Resim 1.2.23.</p>
<p>➤ Bir yüz ilmek alınız Resim 1.2.24.</p>	<p>➤ Tığın üzerinde dört ilmek olmasına dikkat ediniz</p>  <p>Resim 1.2.24.</p>
<p>➤ Tığa bir ilmek dolayınız. Resim 1.2.25.</p>	<p>➤ Tığ üzerinde beş ilmek olmasına dikkat ediniz.</p>  <p>Resim 1.2.25.</p>
<p>➤ Tığa doladığınız ipi beş ilmek içinden geçiriniz. Resim 1.2.26.</p>	<p>➤ Tığ üzerinde tek ilmek kalmasına dikkat ediniz.</p>  <p>Resim 1.2.26</p>

<ul style="list-style-type: none"> ➤ İşlem basamağından itibaren sıranın sonuna kadar tekrarlayınız. Resim 1.2.27. 	<ul style="list-style-type: none"> ➤ Sıra sonunda ipinizi kopartınız.  <p style="text-align: center;">Resim 1.2.27.</p>
<ul style="list-style-type: none"> ➤ Sıra başında üç zincir çekiniz. ➤ Tıgı çektiğiniz bu zincir üzerinde önce ikinci zincire batırınız Resim 1.2.28. 	 <p style="text-align: center;">Resim 1.2.28.</p>
<ul style="list-style-type: none"> ➤ Bir yüz ilmek çekiniz. 	<ul style="list-style-type: none"> ➤ Tıg üzerinde iki ilmek olmasına dikkat ediniz. ➤ Tıgı çektiğiniz bu zincir üzerinde birinci zincire batırınız.
<ul style="list-style-type: none"> ➤ Bir yüz ilmek çekiniz ➤ Tıgı bir önceki sırada papatyaların üstünde oluşan zincir üzerinde birinci zincire batırınız. Resim 1.2.29. 	<ul style="list-style-type: none"> ➤ Tıg üzerinde üç ilmek olmasına dikkat ediniz.  <p style="text-align: center;">Resim 1.2.29.</p>
<ul style="list-style-type: none"> ➤ Bir yüz ilmek çekiniz. Resim 1.2.30. 	<ul style="list-style-type: none"> ➤ Tıg üzerinde dört ilmek olmasına dikkat ediniz.  <p style="text-align: center;">Resim 1.2.30.</p>



<p>➤ Tığı bir önceki sırada papatyaların üstünde oluşan zincir üzerinde ikinci zincire batırınız.</p>	<p>➤ Tığ üzerinde beş ilmek olmasına dikkat ediniz.</p>
<p>➤ Tığa bir ilmek dolayınız.</p>	<p>➤ Tığ üzerinde altı ilmek olmasına dikkat ediniz.</p>
<p>➤ Tığa doladığınız ipi beş ilmek içinden geçiriniz. Resim 1.2.31.</p>	<p>➤ Tığ üzerinde tek ilmek kalmasına dikkat ediniz.</p> 
<p>➤ Tıgdaki tek ilmeği ters ilmekle kapatınız Resim 1.2.32.</p>	<p>➤ Örgüye devam ediniz.</p> 



Resim 1.33. Papatya İlmek

UYGULAMA FAALİYETİ-3

Aşağıda Demet ilmek Çift kroşe ve demet ilmeğin bir arada kullanılmasıyla oluşturulan desen uygulamasını yapınız.





İşlem Basamakları	Öneriler
<p>➤ İki sıra çift kroşe yapınız. Resim 1.3.34.</p>	 <p>Resim 1.3.34.</p>
<p>➤ Çift kroşe yaparken belirli aralıklarla demet ilmek yapınız. Resim 1.3.35.</p>	 <p>Resim 1.3.35.</p>
<p>➤ Çift kroşe ile dönünüz.</p>	<p>➤ Boyutlarının eşit olmasına dikkat ediniz.</p>
<p>➤ Bir önceki sırada yapılan demetin sağına ve soluna birer demet ilmek yapınız.</p>	<p>➤ Boyutlarının eşit olmasına dikkat ediniz</p>
<p>➤ Örgüye devam ediniz.</p>	<p>➤ Örgüyü tamamlayınız.</p>




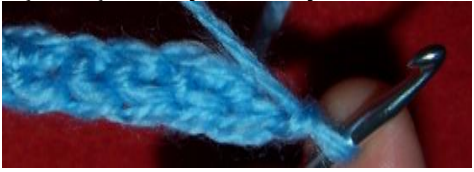


Resim 1.36.Demet İlmek

UYGULAMA FAALİYETİ-4

Aşağıda Battaniye İlmek uygulamasını yapınız.

İşlem Basamakları	Öneriler
<p>➤ Zincir çekiniz.</p>	<p>➤ İsteddiğiniz uzunlukta zincir çekiniz.</p>
<p>➤ Tığa bir ilmek dolayınız. Resim 1.4.37.</p>	<p>➤ Tığın üzerinde iki ilmek olmasına dikkat ediniz.</p>  <p>Resim 1.4.37.</p>
<p>➤ Tığı temel zincirden geriye doğru ikinci zincir ilmeğe batırınız. Resim 1.4.38.</p>	 <p>Resim 1.4.38.</p>
<p>➤ Bir yüz ilmek çekiniz. Resim 1.4.39.</p>	<p>➤ Tığın üzerinde üç ilmek olmasına dikkat ediniz.</p>  <p>Resim 1.4.39.</p>
<p>➤ En son çekilen ilmeği yanındaki ilmek içinden geçiriniz. Resim 1.4.40.</p>	<p>➤ Tığın üzerinde iki ilmek kalmasına dikkat ediniz.</p>  <p>Resim 1.4.40.</p>





<p>➤ Tığa bir ilmek dolayınız. Resim 1.4.41.</p>	 <p>Resim 1.4.41.</p>
<p>➤ Tığa doladığımız ipi tığ üzerindeki iki ilmek içinden geçiriniz. Resim 1.4.42.</p>	<p>➤ Tığın üzerinde tek ilmek kalmasına dikkat ediniz.</p>  <p>Resim 1.4.42.</p>
<p>➤ Sıra sonuna kadar 2. işlem basamağından itibaren tekrarlayınız. Resim 1.4.43.</p>	 <p>Resim 1.4.43.</p>
<p>➤ Sıra sonunda bir zincir çekiniz. ➤ Birinci sıranın oluşturduğu zincirlerin altına batarak ikinci işlem basamağından itibaren örgüye devam ediniz. Resim 1.4.44.</p>	<p>➤ İşinizi çevirmeyi unutmayınız.</p>  <p>Resim 1.4.44.</p>






Resim 1.4.5. Battaniye İlmek

UYGULAMA FAALİYETİ-5

Aşağıda düğüm ilmek, battaniye ilmek deseninin tek yönlü uygulamasını yapınız.

İşlem Basamakları	Öneriler
<p>➤ Zincir çekiniz.</p>	<p>➤ İsteddiğiniz uzunlukta temel teşkil edecek şekilde çekiniz.</p>
<p>➤ Tığa bir ilmek dolayınız. Resim 1.5.46.</p>	<p>➤ Tığın üzerinde iki ilmek olmasına dikkat ediniz.</p>  <p>Resim 1.5.46.</p>
<p>➤ Tığı temel zincirden geriye doğru ikinci zincir ilmeğe batırınız. Resim 1.5.47.</p>	 <p>Resim 1.5.47.</p>
<p>➤ Bir yüz ilmek çekiniz. Resim 1.5.48.</p>	<p>➤ Tığın üzerinde üç ilmek olmasına dikkat ediniz.</p>  <p>Resim 1.5.48.</p>
<p>➤ En son çekilen ilmeği yanındaki ilmek içinden geçiriniz. Resim 1.5.49.</p>	<p>➤ Tığın üzerinde iki ilmek kalmasına dikkat ediniz.</p>  <p>Resim 1.5.49.</p>

<p>➤ Tığa bir ilmek dolayınız. Resim 1.5.50.</p>	 <p>Resim 1.5.50.</p>
<p>➤ Tığa doladığınız ipi tığ üzerindeki iki ilmek içinden geçiriniz. Resim 1.5.51.</p>	<p>➤ Tığın üzerinde tek ilmek kalmasına dikkat ediniz.</p>  <p>Resim 1.5.51.</p>
<p>➤ Sıra sonuna kadar 2. işlem basamağından itibaren tekrarlayınız. Resim 1.5.52.</p>	<p>➤ Sıra sonunda ipinizi koparmayı unutmayınız.</p>  <p>Resim 1.5.52.</p>



Resim 1.53.Düğüm İlmek

ÖLÇME VE DEĞERLENDİRME

ÖLÇME SORULARI

Aşağıda verilen cümleleri doğru – yanlış durumuna göre işaretleyiniz.

1. () Demet yapma temel işlemiyle oluşturulan desenler, demetlerin alt alta, birbirinin arasına veya paralel şekillerde uygulanmasıyla oluşturulan desenlerdir.
2. () İran ilmeği: Zincir altından batarak ve tek yönlü uygulanır.
3. () Papatya ilmek: Zincir üstünden batarak ve çift yönlü uygulanır.
4. ()
5. () Demet ilmek: Çift kroşe ve demet ilmeğin bir arada kullanılmasıyla oluşturulan desen.
6. () Tığ örücülüğünde, motiflerde ve dantel çalışmalarında farklı desenler üretirken düğüm ilmeklerden de faydalanılmaz.
7. () Desenler düğüme benzediğinden bu ismi almışlardır.
8. () Battaniye ilmek Düğüm ilmek olmak üzere iki farklı şekilde uygulanır.

DEĞERLENDİRME

Cevaplarınızı cevap anahtarıyla karşılaştırınız. Yanlış cevap verdiğiniz ya da cevap verirken tereddüt ettiğiniz sorularla ilgili konuları faaliyete geri dönerek tekrarlayınız. Cevaplarınızın tümü doğru ise bir sonraki öğrenme faaliyetine geçiniz.

ÖĞRENME FAALİYETİ-2

AMAÇ

- Öğrenme faaliyetinde kazandırılacak bilgi ve beceriler doğrultusunda, tığ örücülüğünde kullanılan üstten artırma temel işlemiyle desen oluşturma ve britlere değişik şekillerde batarak desen oluşturma işlemlerini yapabileceksiniz.

ARAŞTIRMA

- Tığ örücülüğünde kullanılan üstten artırma temel işlemiyle desen oluşturma çeşitlerini araştırınız.
- Britlere değişik şekillerde batarak desen oluşturma işlemlerini araştırınız.
- Görsel ve basılı kaynaklardan faydalanınız.

2.ÜSTTEN ARTIRMA TEMEL İŞLEMİYLE DESEN OLUŞTURMA

2.1.Tanım

Tığ örücülüğünde üstten artırma temel işlemiyle oluşturulan desenler, tığı britler arasına batırarak veya britlerin çapraz olarak artırılmasıyla oluşturulan desenlerdir.

Üstten artırma temel işlemiyle oluşturulan desenler;

- **Basit Artırma:** Basit artırma, çift kroşe ve bir sıra üstten artırma yapılarak oluşturulan bir desen çeşididir. Çift yönlü uygulanır.
- **Artan Üçlü İlmek:** Artan üçlü ilmek, çift kroşe üzerinde artırılan üçlü brit oluşturarak uygulanan bir kroşe çeşididir.Çift yönlü uygulanır.
- **Artan Çapraz İlmek:** Artan çapraz ilmek, çiftli britleri üstten çaprazlayarak oluşturulan bir desen çeşididir. Çift yönlü uygulanır.
- **Artan Çapraz Üçlü İlmek:** Artan çapraz üçlü ilmek, zincir ortasına batışlı çift kroşe, çift üçlü brit teknikleri kullanılarak oluşturulan bir desen çeşididir.Çift yönlü uygulanır.

2.2. Britlere Deęişik Őekillerde Batarak Desen Oluřturma

2.2.1.Tanımı





Britlere deęişik Őekillerde batarak oluřturulan desenler, motiflere ve dantel alıřmalarına farklı grntler kazandırır. Bu desenler stten artan brit ilmekler grnmndedir.




Britlere deęişik Őekillerde batarak oluřturulan desenler;

- Britlere nden saędan sola doęru batarak oluřturulan desen
- Britlere nden saędan sola doęru batarak ve ara yere zincir ekerek oluřturulan desen olmak zere iki farklı Őekilde uygulanır..

UYGULAMA FAALİYETİ-1

Aşağıda Basit Artırma işlemini yapınız.

İşlem Basamakları	Öneriler
<p>➤ Zincir çekiniz.</p>	<p>➤ İsteddiğiniz uzunlukta temel teşkil edecek şekilde çekiniz.</p>
<p>➤ Bir sıra çift kroşe yapınız. Resim 2.1.1.</p>	 <p>Resim 2.1.1.</p>
<p>➤ Sıra sonunda bir zincir çekiniz. Tıgı sıra başındaki zincir altına batırınız. Resim 2.1.2</p>	<p>➤ İşinizi çevirmeyi unut mayınız.</p>  <p>Resim 2.1.2.</p>
<p>➤ Sıra başındaki bu zincire 3 çift kroşe yapınız. Resim 2.1.3.</p>	 <p>Resim 2.1.3.</p>
<p>➤ Tıgı bir önceki sırada oluşan çift kroşenin altına batırınız. Resim 2.1.4.</p>	 <p>Resim 2.1.4.</p>






<p>➤ Uzun bir yüz ilmek çekiniz. Resim 2.1.5.</p>	 <p>Resim 2.1.5.</p>
<p>➤ Tığdaki iki ilmeği bir yüz ilmekle toplayınız. Resim 2.1.6.</p>	 <p>Resim 2.1.6.</p>
<p>➤ Tığın üzerinde tek ilmek kalmasına dikkat ediniz. Resim 2.1.7.</p>	 <p>Resim 2.1.7.</p>
<p>➤ Tığı zincir altlarına batırarak 5. işlem basamağından itibaren sıra sonuna kadar tekrarlayınız.</p>	<p>➤ İşinizi çevirmeyi unutmayınız.</p>
<p>➤ Bir sıra çift kroşe ile dönüş yapınız.</p>	<p>➤ Daha önce artırılmış olan uzun ilmek aralarına artırma yaparak 4. işlem basamağından itibaren tekrarlayınız.</p>







Resim 2.8. Basit Artırma

UYGULAMA FAALİYETİ-2

Aşağıda Artan Üçlü İlmek uygulamasını yapınız.

İşlem Basamakları	Öneriler
➤ Zincir çekiniz.	➤ İstedığınız uzunlukta temel teşkil edecek şekilde çekiniz.
➤ Bir sıra çift kroşe yapınız. Resim 2.2.9.	 Resim 2.2.9.
➤ Bir sıra yollu kroşe yapınız. Resim 2.2.10.	 Resim 2.2.10.
➤ Bir sıra yollu kroşe yapınız.	➤ El ve gözü eşzamanlı kullanınız.
➤ Tığı bir önceki sırada meydana gelen zincirlerin altlarına batırarak bir sıra üçlü brit yapınız. Resim 2.2.11.	 Resim 2.2.11.
➤ Sıra başında tığı zincir ortasına batırınız. Resim 2.2.12.	 Resim 2.2.12.
➤ Bir çift kroşe yapınız. Resim 2.2.13.	 Resim 2.2.13.

<p>➤ Tığa iki ilmek dolayınız. Resim 2.2.14.</p>	 <p style="text-align: center;">Resim 2.2.14.</p>
<p>➤ Tığı daha önceki üçlü brit sırasının altındaki yollu kroşe ilmeğine batırınız. Resim 2.2.15.</p>	 <p style="text-align: center;">Resim 2.2.15.</p>
<p>➤ Bir yüz ilmek çekiniz Resim 2.2.16.</p>	<p>➤ Tığın üzerinde dört ilmek olmasına dikkat ediniz.</p>  <p style="text-align: center;">Resim 2.2.16.</p>
<p>➤ Tıgdaki ilmekleri ikişer ikişer üç defada toplayınız. ➤ Sıranın sonuna kadar 6. işlem basamağından itibaren tekrarlayınız. Resim 2.2.17.</p>	<p>➤ Tığın üzerinde tek ilmek kalmasına dikkat ediniz.</p>  <p style="text-align: center;">Resim 2.2.17.</p>

➤ Bir sıra yollu kroşe yapınız.
Resim 2.2.18.





➤ Üstten artırılan bitleri her sırada birbirinin arasına gelecek şekilde örgüye devam ediniz











Resim 2.2.18. Artan Üçlü İlmek

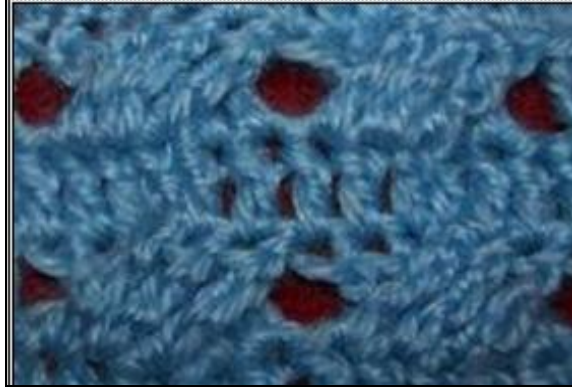
UYGULAMA FAALİYETİ-3

Aşağıda Artan Çapraz İlmek uygulamasını yapınız.

İşlem Basamakları	Öneriler
<p>➤ Zincir çekiniz.</p>	<p>➤ Artan çapraz ilmek, çiftli britleri üstten çaprazlayarak oluşturulan bir desen çeşididir. Çift yönlü uygulanır</p>
<p>➤ Temel zincir üzerine bir sıra basit brit(düz üçlü ilmek) yapınız. Resim 2.3.19.</p>	 <p>Resim 2.3.19.</p>
<p>➤ Sıra yüksekliğini vermek için üç zincir çekiniz. Resim 2.3.20.</p>	 <p>Resim 2.3.20.</p>
<p>➤ iki ilmek dolayınız. Resim 2.3.21.</p>	 <p>Resim 2.3.21.</p>
<p>➤ Tığı birinci sıra üstünde oluşan zincir ilmeklerden üç ilmek atlayarak dördüncü ilmeğe batırınız. Resim 2.3.22.</p>	 <p>Resim 2.3.22.</p>

<p>➤ Bir yüz ilmek çekiniz Resim 2.3.23.</p>	 <p style="text-align: center;">Resim 2.3.23.</p>
<p>➤ Tığ üzerindeki ilmekleri ikişer ikişer toplayınız Resim 2.3.24.</p>	 <p style="text-align: center;">Resim 2.3.24.</p>
<p>➤ Yaptığınız brit yanına iki brit daha yapınız. Resim 2.3.25.</p>	<p>➤ Yan yana üç brit olmasına dikkat ediniz</p>  <p style="text-align: center;">Resim 2.3.25.</p>
<p>➤ Tığa iki ilmek dolayınız. Resim 2.3.26.</p>	 <p style="text-align: center;">Resim 2.3.26.</p>
<p>➤ Tığı ilk yaptığınız britin sağ tarafından daha önce atlamış olduğunuz zincir ilmeklerden ortadakine batırınız.. Resim 2.3.27.</p>	 <p style="text-align: center;">Resim 2.3.27.</p>
<p>➤ Bir brit yapınız. ➤ Tığa iki ilmek dolayınız</p>	<p>➤ Tığ üzerinde üç ilmek olmasına dikkat ediniz.</p>





<ul style="list-style-type: none"> ➤ Tıđı 9. iřlem basamađında yapmıř olduđunuz britin soluna batırınız. ➤ Tıđ üzerindeki ilmekleri ikiřer ikiřer toplayınız. 	<ul style="list-style-type: none"> ➤ Tıđ üzerinde tek ilmek kalmasına dikkat ediniz.
<ul style="list-style-type: none"> ➤ Tıđa iki ilmek dolayınız. ➤ Tıđı altta kalan birinci brit altına batırınız 	<ul style="list-style-type: none"> ➤ Tıđ üzerinde üç ilmek olmasına dikkat ediniz.
<ul style="list-style-type: none"> ➤ Tıđ üzerindeki ilmekleri ikiřer ikiřer toplayınız. Resim 2.3.28. 	 <p style="text-align: center;">Resim 2.3.28.</p>
<ul style="list-style-type: none"> ➤ Tıđa iki ilmek dolayınız. Resim 2.3.29. 	 <p style="text-align: center;">Resim 2.3.29.</p>
<ul style="list-style-type: none"> ➤ Tıđı birinci sıranın basit britleri üzerinden ve aprazlanmıř üçlü brit gruplarından sola dođru üç ilmek atlayarak dördüncü ilmeđe batırınız Resim 2.3.30. 	 <p style="text-align: center;">Resim 2.3.30.</p>
<ul style="list-style-type: none"> ➤ Bir brit yapınız. ➤ 4. iřlem basamađından itibaren iřlemleri sıranın sonuna kadar tekrarlayınız 	<ul style="list-style-type: none"> ➤ Sıra sonunda iřinizi evirmeyi unutmayınız.
<ul style="list-style-type: none"> ➤ Bir sıra basit brit(düz üçlü ilmek) yapınız. ➤ Britleri aprazlama iřlemlerini tekrarlayarak örgüye devam ediniz. 	<ul style="list-style-type: none"> ➤ Sıra sonunda bir zincir ekerek iřinizi eviriniz.












Resim 2.31. Artan apraz İlmek





UYGULAMA FAALİYETİ-4

Aşağıda Artan Çapraz Üçlü İlmek uygulamasını yapınız.

İşlem Basamakları	Öneriler
➤ Zincir çekiniz.	➤ İstedığınız uzunlukta temel teşkil edecek şekilde çekiniz.
➤ Temel zincir üzerine iki sıra çift kroşe yapınız. Resim 2.4.32.	 <p>Resim 2.4.32.</p>
➤ Bir sıra yollu kroşe yapınız. Resim 2.4.33.	 <p>Resim 2.4.33.</p>
➤ Tıgı sıra başında ilk zincirin ortasına batırarak iki çift kroşe yapınız. Resim 2.4.34.	 <p>Resim 2.4.34.</p>
➤ Tığa iki ilmek dolayınız Resim 2.4.35.	 <p>Resim 2.4.35.</p>

<p>➤ Tıđı yollu kroşenin ilk ilmeđine batırınız.. Resim 2.4.36.</p>	 <p style="text-align: center;">Resim 2.4.36.</p>
<p>➤ Bir yüz ilmek çekiniz. Resim 2.4.37.</p>	<p>➤ Tıđ üzerinde dört ilmek olmasına dikkat ediniz.</p>  <p style="text-align: center;">Resim 2.4.37.</p>
<p>➤ Tıđa iki ilmek dolayınız. Tıđ üzerindeki ilmekleri ikişer ikişer toplayınız Resim 2.4.38.</p>	<p>➤ Tıđ üzerinde iki ilmek kalmasına dikkat ediniz.</p>  <p style="text-align: center;">Resim 2.4.38.</p>
<p>➤ Tıđa iki ilmek dolayınız. Tıđı yollu kroşenin alt sırasında daha önce battıđınız yerden sola dođru üç ilmek atlayarak dördüncü ilmeđe batırınız. Resim 2.4.39.</p>	 <p style="text-align: center;">Resim 2.4.39.</p>
<p>➤ Bir yüz ilmek çekiniz. Resim 2.4.40.</p>	<p>➤ Tıđ üzerinde beş ilmek olmasına dikkat ediniz.</p>  <p style="text-align: center;">Resim 2.4.40.</p>

<ul style="list-style-type: none"> ➤ Tığ üzerindeki ilmekleri ikişer ikişer iki defada toplayınız. 	<ul style="list-style-type: none"> ➤ Tığ üzerinde üç ilmek kalmasına dikkat ediniz.
<ul style="list-style-type: none"> ➤ Tığa bir ilmek dolayınız. 	<ul style="list-style-type: none"> ➤ Tığ üzerinde dört ilmek olmasına dikkat ediniz.
<ul style="list-style-type: none"> ➤ Tığa doladığımız ipi tığ üzerindeki üç ilmek içinden geçiriniz. Resim 2.4.41 	 <p style="text-align: center;">Resim 2.4.41.</p>
<ul style="list-style-type: none"> ➤ Tığı yollu kroşenin üzerinden bir ilmek atlayarak sonraki ilmeğe batırarak üç çift kroşe yapınız. Resim 2.4.42. 	 <p style="text-align: center;">Resim 2.4.42.</p>
<ul style="list-style-type: none"> ➤ Tığa iki ilmek dolayınız ➤ Tığı onikinci işlem basamağında batırdığımız yere batırınız. Resim 2.4.43. 	 <p style="text-align: center;">Resim 2.4.43.</p>
<ul style="list-style-type: none"> ➤ Bir yüz ilmek çekiniz. Resim 2.4.44. 	 <p style="text-align: center;">Resim 2.4.44.</p>
<ul style="list-style-type: none"> ➤ Tığ üzerindeki ilmekleri ikişer ikişer iki defada toplayınız. 	<ul style="list-style-type: none"> ➤ Tığ üzerinde iki ilmek kalmasına dikkat ediniz.

<p>➤ 11. işlem basamağından itibaren britleri üçgen oluşturacak şekilde birleştirerek sıranın sonuna kadar tekrarlayınız Resim 2.4.45.</p>	<p>➤ Sıra sonunda bir zincir çekerek işinizi çevirmeyi unutmayınız.</p>  <p>Resim 2.4.45.</p>
<p>➤ Bir sıra zincir ortalarına batarak çift kroşe yapınız. ➤ Sıra yüksekliği vermek için iki zincir çekiniz. Resim 2.4.46.</p>	 <p>Resim 2.4.46.</p>
<p>➤ Tığa iki ilmek dolayınız. Resim 2.4.47.</p>	 <p>Resim 2.4.47.</p>
<p>➤ Tığ bir önceki sırada artan üçlü britleri toplayan zincire batırınız. Resim 2.4.48.</p>	<p>➤ Tığ zincire aşağıdan yukarıya doğru batırmaya dikkat ediniz.</p>  <p>Resim 2.4.48.</p>

- Son sıradan bir zincir bir zincir atlayarak sonraki zincir ilmeklere üç çift kroşe yapınız. Tığa iki ilmek dolayınız Resim 2.4.49.



Resim 2.4.49.

- Tığı yapmış olduğunuz üçlü britin dibine batırarak yeni bir üçlü brit yapınız.
- Ürünü tamamlayınız. Resim 2.4.50.






Resim 2.4.50.











Resim 3.51. Artan Çapraz Üçlü İlmek

UYGULAMA FAALİYETİ-5

Aşağıda Artan Demet İlmek uygulamasını yapınız.

İşlem Basamakları	Öneriler
<ul style="list-style-type: none">➤ Zincir çekiniz.	<ul style="list-style-type: none">➤ İsteddiğiniz uzunlukta temel teşkil edecek şekilde çekiniz.
<ul style="list-style-type: none">➤ Bir sıra çift kroşe yapınız. Resim 2.5.52.	 <p>Resim 2.5.52.</p>
<ul style="list-style-type: none">➤ Bir sıra yollu kroşe yapınız.	<ul style="list-style-type: none">➤ Sıra sonunda bir zincir çekerek işinizi çevirmeyi unutmayınız.
<ul style="list-style-type: none">➤ Bir sıra yollu kroşe yapınız. Resim 2.5.53.	<ul style="list-style-type: none">➤ İşinizi çeviriniz  <p>Resim 2.5.53.</p>
<ul style="list-style-type: none">➤ Zincir ortalarına batarak üç çift kroşe yapınız. Resim 2.5.54.	 <p>Resim 2.5.54.</p>
<ul style="list-style-type: none">➤ Tıgı dördüncü zincir ortasına batırınız.➤ Bir yüz ilmek çekiniz Resim 2.5.55.	<ul style="list-style-type: none">➤ Tıgın üzerinde iki ilmek olmasına dikkat ediniz

	 <p style="text-align: center;">Resim 2.5.55.</p>
<p>➤ Tığa bir ilmek dolayınız. Resim 2.5.56.</p>	<p>➤ Tığın üzerinde üç ilmek olmasına dikkat ediniz.</p>  <p style="text-align: center;">Resim 2.5.56.</p>
<p>➤ Tığı ikinci sırada yaptığınız yollu kroşenin alt kenarından dördüncü ilmeğe batırınız. Resim 2.5.57.</p>	<p>➤ Tığı ilmek üzerinde aşağıdan yukarıya doğru batırmaya dikkat ediniz.</p>  <p style="text-align: center;">Resim 2.5.57.</p>
<p>➤ Bir yüz ilmek çekiniz . Resim 2.5.58.</p>	<p>➤ Çektiğiniz ilmeğin uzun olmasına dikkat ediniz.</p>  <p style="text-align: center;">Resim 2.5.58.</p>
<p>➤ Tığa bir ilmek dolayınız.</p> <p>➤ Tığa doladığınız ipi iki ilmek içinden geçiriniz. Resim 2.5.59.</p>	<p>➤ Tığın üzerinde beş ilmek olmasına dikkat ediniz</p> <p>➤ Tığın üzerinde üç ilmek kalmasına dikkat ediniz</p>

	 <p style="text-align: center;">Resim 2.5.59.</p>
<ul style="list-style-type: none"> ➤ Tıđı yollu kroşede aynı yere batırarak yedinci işlem basamađından itibaren işlemleri tekrarlayınız. Resim 2.5.60. 	<ul style="list-style-type: none"> ➤ Tıđın üzerinde sekiz ilmek olmasına dikkat ediniz  <p style="text-align: center;">Resim 2.5.60.</p>
<ul style="list-style-type: none"> ➤ Tıđa bir ilmek dolayınız. ➤ Tıđa doladıđınız ipi sekiz ilmek içinden geçiriniz. 	<ul style="list-style-type: none"> ➤ Tıđ üzerinde iki ilmek kalmasına dikkat ediniz
<ul style="list-style-type: none"> ➤ Bir zincir ilmek yaparak demeti kapatınız. Resim 2.5.61. 	 <p style="text-align: center;">Resim 2.5.61.</p>
<ul style="list-style-type: none"> ➤ Tıđı demetin arkasında kalan bir zincir ilmeđi atlayarak altıncı zincir ilmeđe batırınız. ➤ Üç çift kroşe yapınız. Resim 2.5.62. 	 <p style="text-align: center;">Resim 2.5.62.</p>
<ul style="list-style-type: none"> ➤ Tıđı son yaptıđınız çift kroşe yanındaki zincir ilmeđe batırınız. 	<ul style="list-style-type: none"> ➤ Tıđ üzerinde iki ilmek olmasına dikkat ediniz




➤ Bir yüz ilmek çekiniz.	
➤ Yedinci işlem basamağından itibaren işlemleri sıra sonuna kadar tekrarlayınız. ➤ Üç sıra yollu kroşe yapınız.	➤ Sıra sonlarında bir zincir çekerek işinizi çevirmeyi unutmayınız. ➤ Demetler birbirinin arasına gelecek şekilde işlemleri tekrarlayınız.





Resim 2.63. Artan Demet İlmek

UYGULAMA FAALİYETİ-6

Aşağıda Britlere Önden Sağdan Sola Batarak Oluşturulan Desen uygulamasını yapınız.

İşlem Basamakları	Öneriler
<ul style="list-style-type: none">➤ Zincir çekiniz.	<ul style="list-style-type: none">➤ İstedığınız uzunlukta temel teşkil edecek şekilde çekiniz.
<ul style="list-style-type: none">➤ İki sıra çift kroşe yapınız. Resim 2.6.64.	<ul style="list-style-type: none">➤ Sıra sonunda bir zincir çekerek işinizi çevirmeyi unutmayınız.  <p>Resim 2.6.64.</p>
<ul style="list-style-type: none">➤ Sıra başındaki 1. 2. 3. ve 4. zincir altına batarak çift kroşe yapınız. Resim 2.6.65.	 <p>Resim 2.6.65.</p>
<ul style="list-style-type: none">➤ Tığınıza iki ilmek dolayınız. Resim 2.6.66.	<ul style="list-style-type: none">➤ Tığın üzerinde üç ilmek olmasına dikkat ediniz.  <p>Resim 2.6.66.</p>

<ul style="list-style-type: none"> ➤ Bir önceki çift kroşe sırasındaki beşinci ilmeğe önden sağdan sola tığı batırarak bir çift üçlü brit yapınız. Resim 2.6.67. 	 <p style="text-align: center;">Resim 2.6.67.</p>
<ul style="list-style-type: none"> ➤ Bir önceki çift kroşe sırasındaki altıncı, yedinci ve sekizinci ilmeğe de çift üçlü brit yapınız. Resim 2.6.68. 	 <p style="text-align: center;">Resim 2.6.68.</p>
<ul style="list-style-type: none"> ➤ 3. işlem basamağından itibaren sıranın sonuna kadar tekrar ediniz. ➤ Zincir altlarına batarak bir sıra çift kroşe yapınız. 	<ul style="list-style-type: none"> ➤ Sıranın sonunda işinizi çevirmeyi unutmayınız.
<ul style="list-style-type: none"> ➤ Sıra başında işlem yüksekliği vermek için iki zincir çekiniz 	<ul style="list-style-type: none"> ➤ Yeni britleri çift kroşe sırasının altındaki brit aralarına gelecek şekilde yaparak 3. işlem basamağından itibaren örgüye devam ediniz



Resim 2.69: Britlere Önden Sağdan Sola Batarak Oluşturulan Desen

ÖLÇME VE DEĞERLENDİRME

ÖLÇME SORULARI

Aşağıda verilen cümleleri doğru – yanlış durumuna göre işaretleyiniz.

1. () Tığ örücülüğünde üstten artırma temel işlemiyle oluşturulan desenler, tığı britler arasına batırarak veya britlerin çapraz olarak artırılmasıyla oluşturulan desenlerdir.
2. () Basit Artırma: Basit artırma, tek kroşe ve iki sıra üstten artırma yapılarak oluşturulan bir desen çeşididir. Tek yönlü uygulanır.
3. () Artan Üçlü İlmek: Artan üçlü ilmek, çift kroşe üzerinde artırılan üçlü brit oluşturarak uygulanan bir kroşe çeşididir. Çift yönlü uygulanır.
4. () Artan Çapraz İlmek: Artan çapraz ilmek, çiftli britleri alttan çaprazlayarak oluşturulan bir desen çeşididir. Tek yönlü uygulanır.
5. () Artan Çapraz Üçlü İlmek: Artan çapraz üçlü ilmek, zincir ortasına batışlı çift kroşe, çift üçlü brit teknikleri kullanılarak oluşturulan bir desen çeşididir. Çift yönlü uygulanır.
6. () Britlere değişik şekillerde batarak oluşturulan desenler, motiflere ve dantel çalışmalarına farklı görüntüler kazandırır. Bu desenler üstten artan brit ilmekler görünümündedir.
7. () Britlere değişik şekillerde batarak oluşturulan desenler; Britlere önden sağdan sola doğru batarak oluşturulan desen, Britlere önden sağdan sola doğru batarak ve ara yere zincir çekerek oluşturulan desen olmak üzere iki farklı şekilde uygulanır.

DEĞERLENDİRME

Cevaplarınızı cevap anahtarıyla karşılaştırınız. Yanlış cevap verdiğiniz ya da cevap verirken tereddüt ettiğiniz sorularla ilgili konuları faaliyete geri dönerek tekrarlayınız. Cevaplarınızın tümü doğru ise bir sonraki öğrenme faaliyetine geçiniz.

ÖĞRENME FAALİYETİ-3

AMAÇ

- Öğrenme faaliyetinde kazandırılacak bilgi ve beceriler doğrultusunda tığ örücülüğünde kullanılan pikoların yapılışını uygulayabileceksiniz.

ARAŞTIRMA

- Tığ örücülüğünde kullanılan pikoları araştırınız.
- Görsel ve basılı kaynaklardan araştırınız.

3.TIĞ İLE PİKO YAPMA

3.1.Tanım

Tığ örücülüğünde yapılan çalışmaların daha estetik ve güzel görünmesini sağlayan örgünün kenarlarına uygulanan küçük çıkıntılı şekiller piko olarak isimlendirilir.

Pikolar sadece tığ örgü çalışmalarında kullanılmaz. Kumaş kenarlarına, şiş örgü işlerinin kenarlarına ve uzun şeritler halinde örülerek sonradan birleştirilip dikilerek de kullanılır.

Pikolar, uygulamada kullanılan tekniğe ve görünümlerine göre zincir pikolar, sivri pikolar ve yuvarlak pikolar olmak üzere üçe ayrılır.

3.1.1.Zincir Pikolar: Zincir pikolar, zincir ilmeğin uygulanması ve örerken şekillendirilmesiyle oluşturulur. Üç şekilde uygulanır.

- Zincir piko (a)
- Zincir piko (b)
- Zincir piko (c)

3.1.2. Sivri pikolar: Sivri pikolar, uygulama sonucunda oluşan şekilden dolayı bu isim verilmiştir.

İki şekilde uygulanır

- Küçük sivri piko
- Sivri piko




3.1.3.Yuvarlak pikolar: Yuvarlak pikolar, uygulama sonucunda Őekil yuvarlak grnmde olduĐu iin bu isim verilmiŐtir.

 Őekilde uygulanır

- Kk yuvarlak piko
- Yuvarlak piko
- Fistolu piko






UYGULAMA FAALİYETİ-1

Aşağıda Zincir Piko(a) uygulamasını yapınız.

İşlem Basamakları	Öneriler
<p>➤ Üç zincir çekiniz. Resim 3.1.1.</p>	 <p>Resim 3.1.1.</p>
<p>➤ Tıgı geriye dönerek birinci zincir ilmeğin ortasına batırınız. ➤ Tıgı batırdığınız zincir üzerine bir çift kroşe yapınız. Resim 3.1.2.</p>	 <p>Resim 3.1.2.</p>
<p>➤ 1. 2. ve 3. işlemi tekrar ederek pikoyu örmeye devam ediniz. Resim 3.1.3.</p>	 <p>Resim 3.1.3: Zincir Piko (a)</p>

UYGULAMA FAALİYETİ-2

Aşağıda Zincir Piko(b) uygulamasını yapınız.

İşlem Basamakları	Öneriler
<p>➤ Beş zincir çekiniz. Resim 3.2.4.</p>	 <p>Resim 3.2.4.</p>
<p>➤ Tığınızı son ilmekten çıkartınız. Resim 3.2.5.</p>	 <p>Resim 3.2.5.</p>
<p>➤ Tığı zincire başladığımız uçtan sayarak ikinci zincir ilmeğe batırınız. Resim 3.2.6.</p>	 <p>Resim 3.2.6.</p>
<p>➤ İkinci işlem basamağında tığdan çıkartmış olduğunuz ilmeği tığa geçirin. Resim 3.2.7.</p>	 <p>Resim 3.2.7.</p>
<p>➤ Tığa geçirdiğiniz ilmeği zincir içinden yukarı çekiniz. Resim 3.2.8.</p>	 <p>Resim 3.2.8.</p>


- işlem basamağından itibaren tekrar ederek pikoyu örmeye devam ediniz.
Resim 3.2.9.


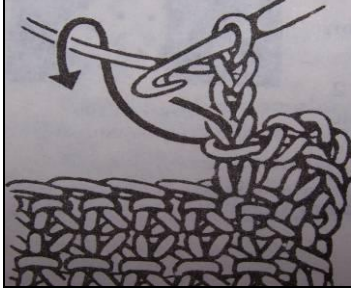




Resim 3.2.9: Zincir Piko (b)

UYGULAMA FAALİYETİ-3

Aşağıda Zincir Piko(c) uygulamasını yapınız.


İşlem Basamakları	Öneriler
<ul style="list-style-type: none">➤ Zincir çekiniz.	<ul style="list-style-type: none">➤ İstedığınız uzunlukta temel teşkil edecek şekilde çekiniz.
<ul style="list-style-type: none">➤ İki sıra çift kroşe yapınız. Resim 3.3.10.	<ul style="list-style-type: none">➤ Sıra sonunda bir zincir çekerek işinizi çevirmeyi unutmayınız.  <p>Resim 3.3.10.</p>
<ul style="list-style-type: none">➤ Beş zincir çekiniz. Resim 3.3.11.	<ul style="list-style-type: none">➤ Çektiğiniz zincirlerin sıra başında sağdan sola doğru olmasına dikkat ediniz.  <p>Resim 3.3.11.</p>
<ul style="list-style-type: none">➤ Tıgı bir önceki sırada yapmış olduğunuz çift kroşe üzerindeki en yakın zincir ortasına batırarak bir yüz ilmek çekiniz.➤ Tığa bir ilmek dolayınız.	<ul style="list-style-type: none">➤ Tığ üzerinde üç ilmek olmasına dikkat ediniz.
<ul style="list-style-type: none">➤ Tığa doladığınız ipi iki ilmek içinden geçiriniz. Resim 3.3.12.	<ul style="list-style-type: none">➤ Üç zincir çekiniz

	 <p>Resim 3.3.12.</p>
<p>➤ Tığı çektiğiniz zincirin ilk ilmeğine batırınız. Resim 3.3.13.</p>	 <p>Şekil 3.3.1</p>  <p>Şekil 3.3.1</p>
<p>➤ Bir yüz ilmek çekiniz. Resim 3.3.14.</p>	 <p>Resim 3.3.14.</p>

➤ İki ilmeği bir defa da toplayınız. Tıđı temel zincirden iki ilmek atlayarak üçüncü zincir ortasına batırınız. Resim 3.3.15.

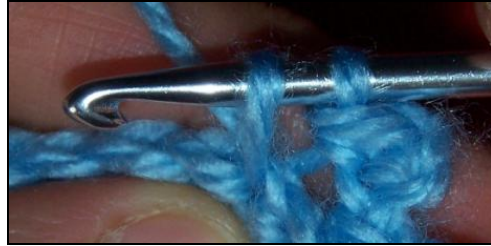


Resim 3.3.15



Şekil 3.3.2




➤ Bir yüz ilmek çekiniz. Resim 3.3.16.



Resim 3.3.16.





UYGULAMA FAALİYETİ-4




Aşağıda Küçük Sivri Piko uygulamasını yapınız.

İşlem Basamakları	Öneriler
<ul style="list-style-type: none">➤ Üç zincir çekiniz. Resim 3.4.17.	 <p>Resim 3.4.17.</p>
<ul style="list-style-type: none">➤ Tıgı geriye dönerek tığın üzerindeki ilmekten sonraki birinci zincir ilmek ortasına batırınız.➤ Bir çift kroşe yapınız. Resim 3.4.18.	 <p>Resim 3.4.18.</p>
<ul style="list-style-type: none">➤ İkinci zincir ilmeğe de bir çift kroşe yapınız.➤ 1. işlem basamağından itibaren tekrarlayarak piko örmeye devam ediniz. Resim 3.4.19.	 <p>Resim 3.4.19. Küçük Sivri Piko</p>

UYGULAMA FAALİYETİ-5




Aşağıda Sivri Piko uygulamasını yapınız.




İşlem Basamakları	Öneriler
<ul style="list-style-type: none">➤ Altı zincir çekiniz. Resim 3.5.20.	 <p>Resim 3.5.20.</p>
<ul style="list-style-type: none">➤ Tıgı, tıgdaki son ilmekten bir önceki zincir ortasına batırınız.➤ Bir basit kroşe yapınız. Resim 3.5.21.	 <p>Resim 3.5.21.</p>
<ul style="list-style-type: none">➤ Tıgı başlangıç noktasından sayarak dördüncü zincir ilmek ortasına batırınız.➤ Bir çift kroşe yapınız. Resim 3.5.22.	 <p>Resim 3.5.22.</p>
<ul style="list-style-type: none">➤ Üçüncü zincir ilmeğe bir yarım üçlü(yarım brit) yapınız. Resim 3.5.23.	 <p>Resim 3.5.23.</p>

<ul style="list-style-type: none"> ➤ Tığa bir ilmek dolayınız. 	<ul style="list-style-type: none"> ➤ Tığ üzerinde dört ilmek olmasına dikkat ediniz.
<ul style="list-style-type: none"> ➤ Tığa doladığınız ipi üç ilmek içinden geçiriniz. 	<ul style="list-style-type: none"> ➤ Tığ üzerinde tek ilmek kalmasına dikkat ediniz.
<ul style="list-style-type: none"> ➤ İkinci zincir ilmeğe bir brit(düz uçlü) yapınız. Resim 3.5.24. 	 <p style="text-align: center;">Resim 3.5.24.</p>
<ul style="list-style-type: none"> ➤ Tığa iki ilmek dolayınız. 	<ul style="list-style-type: none"> ➤ Tığ üzerinde üç ilmek olmasına dikkat ediniz.
<ul style="list-style-type: none"> ➤ Birinci zincir ilmeğe bir çift uçlü brit yapınız. Resim 3.5.25. 	 <p style="text-align: center;">Resim 3.5.25.</p>
<ul style="list-style-type: none"> ➤ 1. işlem basamağından itibaren tekrarlayarak piko örmeye devam ediniz. Resim 3.5.26. 	 <p style="text-align: center;">Resim 3.5.26:Sivri Piko</p>

UYGULAMA FAALİYETİ-6




Aşağıda Küçük Yuvarlak Piko uygulamasını yapınız.





İşlem Basamakları	Öneriler
<p>➤ Üç zincir çekiniz. Resim 3.6.27.</p>	 <p>Resim 3.6.27.</p>
<p>➤ Tığa bir ilmek dolayınız. Resim 3.6.28.</p>	 <p>Resim 3.6.28.</p>
<p>➤ Tığı geriye dönerek birinci zincir ortasına batırınız. Resim 3.6.29.</p>	 <p>Resim 3.6.29.</p>
<p>➤ Bir yüz ilmek çekiniz. Resim 3.6.30.</p>	<p>Tıgım üzerinde üç ilmek olmasına dikkat ediniz.</p>

	 <p>Resim 3.6.30.</p>
<p>➤ Tıg üzerindeki ilmekleri ikişer ikişer toplayınız. Resim 3.6.31.</p>	 <p>Resim 3.6.31</p>
<p>➤ 1. işlem basamağından itibaren tekrarlayarak piko örmeye devam ediniz. Resim 3.6.32.</p>	 <p>Resim 3.6.32. Küçük Yuvarlak Piko</p>

UYGULAMA FAALİYETİ-7




Aşağıda Yuvarlak Piko uygulamasını yapınız





İşlem Basamakları	Öneriler
<p>➤ Üç zincir çekiniz. Resim 3.7.33.</p>	 <p>Resim 3.7.33.</p>
<p>➤ Tığa bir ilmek dolayınız. Resim 3.7.34.</p>	 <p>Resim 3.7.34.</p>
<p>➤ Tığı başlangıç ilmeğine batırınız. Resim 3.7.35.</p>	 <p>Resim 3.7.35</p>

<p>➤ Bir yüz ilmek çekiniz Resim 3.7.36.</p>	 <p>Resim 3.7.36.</p>
<p>➤ Tıg üzerindeki ilmekleri ikişer ikişer toplayınız. Resim 3.7.37.</p>	 <p>Resim 3.7.37.</p>
<p>➤ Tıgı başlangıç ilmeğine batırarak 4. ve 5. İşlem basamağını tekrarlayınız. Resim 3.7.38.</p>	 <p>Resim 3.7.38.</p>
<p>➤ 1. işlem basamağından itibaren tekrarlayarak piko örmeye devam ediniz. Resim 3.7.39.</p>	 <p>Resim 3.7.39. Yuvarlak Piko</p>

UYGULAMA FAALİYETİ-8

Aşağıda Fistolu Piko uygulamasını yapınız

İşlem Basamakları	Öneriler
<p>➤ Beş zincir çekiniz. Resim 3.8.40.</p>	 <p>Resim 3.8.40.</p>
<p>➤ Tıgı başlangıç ilmeğine batırınız. Bir basit kroşe yaparak halkayı kapatınız. Resim 3.8.41.</p>	 <p>Resim 3.8.41.</p>
<p>➤ Tıgı halkanın içine batırarak altı çift kroşe yapınız. Resim 3.8.42.</p>	 <p>Resim 3.8.42.</p>

<p>➤ Dört zincir çekiniz. Resim 3.8.43.</p>	 <p>Resim 3.8.43.</p>
<p>➤ Tığ son yaptığınız kroşenin dibine batırınız Resim 3.8.44.</p>	 <p>Resim 3.8.44.</p>
<p>➤ Bir basit kroşe yapınız. Resim 3.8.45.</p>	 <p>Resim 3.8.45.</p>
<p>➤ İşi ters çeviriniz. Resim 3.8.46.</p>	 <p>Resim 3.8.46.</p>

- 4. işlem basamağından itibaren tekrarlayınız. Resim 3.8.47.



Resim 3.8.47. Fistolu Piko

ÖLÇME VE DEĞERLENDİRME

ÖLÇME SORULARI

Aşağıda verilen cümleleri doğru – yanlış durumuna göre işaretleyiniz.

1. () Tığ örücülüğünde yapılan çalışmaların daha estetik ve güzel görünmesini sağlayan örgünün kenarlarına uygulanan küçük çıkıntılı şekiller piko denir.
2. () Pikolar sadece tığ örgü çalışmalarında kullanılır.
3. () Kumaş kenarlarına, şiş örgü işlerinin kenarlarına ve uzun şeritler halinde örülerek sonradan birleştirilip dikilerek de kullanılır.
4. () Pikolar, uygulamada kullanılan tekniğe ve görünümüne göre zincir pikolar, sivri pikolar ve yuvarlak pikolar olmak üzere üçe ayrılır.
5. () Zincir Pikolar: Zincir pikolar, zincir ilmeğin uygulanması ve örerken şekillendirilmesiyle oluşturulur. Beş şekilde uygulanır.
6. () Sivri pikolar: Sivri pikolar, uygulama sonucunda oluşan şekilden dolayı bu isim verilmiştir.
7. () Yuvarlak pikolar: Yuvarlak pikolar, uygulama sonucunda şekil yuvarlak görünümde olduğu için bu isim verilmiştir. Küçük kare piko, Kare piko, Fistolu piko olmak üzere üç şekilde uygulanır.

DEĞERLENDİRME

Cevaplarınızı cevap anahtarıyla karşılaştırınız. Yanlış cevap verdiğiniz ya da cevap verirken tereddüt ettiğiniz sorularla ilgili konuları faaliyete geri dönerek tekrarlayınız. Cevaplarınızın tümü doğru ise bir sonraki öğrenme faaliyetine geçiniz.

ÖĞRENME FAALİYETİ-4

AMAÇ

- Öğrenme faaliyetinde kazandırılacak bilgi ve beceriler doğrultusunda, tığ örücülüğünde kullanılan zincir desenleri ve Tunus İlmeği Temel İşlemiyle Desen Oluşturma işlemlerini uygulayabileceksiniz,

ARAŞTIRMA

- Tığ örücülüğünde kullanılan zincir desenler yapmayı araştırınız.
- Tunus İlmeği Temel İşlemiyle Desen Oluşturma işlemlerini araştırınız.
- Görsel ve basılı kaynaklardan faydalanabilirsiniz.

4.ZİNCİR DESENLER YAPMA

4.1.Tanımı

Zincir desenler, belirli sayılarda çekilen zincirlerin birbiri üzerine, birbirlerinin aralarına farklı şekillerde bağlanması ile oluşturulan desenlerdir. Bu desenlerde çekilen zincir sayısına göre küçük veya büyük delikli dokular meydana gelir. Zincir sayısı az olduğunda küçük delikli sık dokular, zincir sayısı çok olursa büyük delikli seyrek ve gevşek dokular oluşur.

Zincir desenlerde çekilen zincir dizelerinin meydana getirdiği delikler, bitlerle doldurularak yeni desenler oluşturulur. Böylece boş alanlar dolu alanlarla dengelenir. Basit kroşe, çift kroşe ve bitlerin zincir dizeleri arasında kullanılmasıyla da değişik örgüler meydana gelir.

Zincir desenlerin kare file, yay şeklinde file ve pikolu file olmak üzere üç farklı şekilde uygulanır.

4.2.Tunus İlmeđi Temel İşlemiyle Desen Oluřturmak

4.2.1.Tanımı




Tunus ilmeđi temel işlemiyle oluşturulan desenler, tunus ilmeđinin üzerindeki atkı görünömlü ilmeklere tıđın farklı yönlerde batırılmasıyla meydana gelir.





Tunus ilmeđi temel işlemiyle oluşturulan desenler;





- Çapraz Tunus ilmeđi
- Jarse Tunus ilmeđi
- Üçlü bağlama Tunus ilmeđi olmak üzere üç farklı şekilde uygulanır.

UYGULAMA FAALİYETİ-1

Aşağıda Kare File uygulamasını yapınız.




İŞLEM BASAMAKLARI	ÖNERİLER
<p>➤ Zincir çekiniz.</p>	<p>➤ İsteddiğiniz uzunlukta temel teşkil edecek şekilde çekiniz.</p>
<p>➤ Tığa bir ilmek dolayınız. Resim 4.1.1.</p>	 <p>Resim 4.1.1.</p>
<p>➤ Tığı temel zincirden iki ilmek atlayarak üçüncü zincir ilmeğe batırınız. Resim 4.1.2.</p>	 <p>Resim 4.1.2.</p>
<p>➤ Bir ilmek çekiniz. Resim 4.1.3.</p>	 <p>Resim 4.1.3.</p>





<p>➤ Tığ üzerindeki ilmekleri ikişer ikişer toplayınız. Resim 4.1.4.</p>	 <p>Resim 4.1.4.</p>
<p>➤ İki zincir çekiniz. Resim 4.1.5.</p>	 <p>Resim 4.1.5.</p>
<p>➤ Tığı temel zincirden iki ilmek atlayarak tekrar bir brit yapınız. Resim 4.1.6.</p>	 <p>Resim 4.1.6.</p>
<p>➤ 2. işlem basamağından itibaren sıranın sonuna kadar tekrarlayınız. Resim 4.1.7.</p>	 <p>Resim 4.1.7.</p>

<p>➤ İşlem yüksekliği vermek için sıra başında dört zincir çekiniz. Resim 4.1.8.</p>	 <p>Resim 4.1.8.</p>
<p>➤ Tığa bir ilmek dolayınız Resim 4.1.9.</p>	 <p>Resim 4.1.9.</p>
<p>➤ Tığı bir önceki sıranın briti üzerine batırınız. ➤ Bir brit yapınız. Resim 4.1.10.</p>	 <p>Resim 4.1.10.</p>
<p>➤ 3. işlem basamağından itibaren sıranın sonuna kadar tekrarlayınız. Resim 4.1.11.</p>	 <p>Resim 4.1.11.Kare File</p>

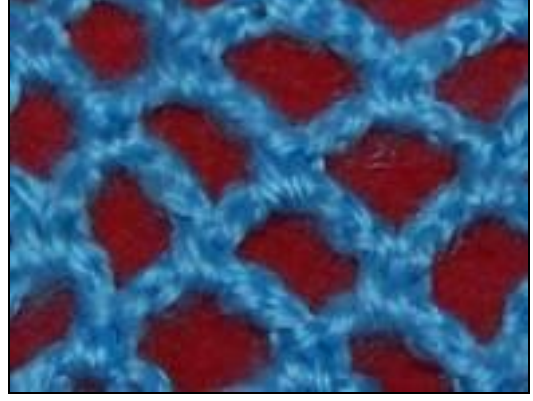
UYGULAMA FAALİYETİ-2

Aşağıda Yay Şeklinde File Uygulamasını Yapınız.

İŞLEM BASAMAKLARI	ÖNERİLER
<p>➤ Zincir çekiniz.</p>	<p>➤ İstedığınız uzunlukta temel teşkil edecek şekilde çekiniz.</p>
<p>➤ Zincir ilmeklerin hepsine çift kroşe yapınız. Resim 4.2.12.</p>	 <p>Resim 4.2.12.</p>
<p>➤ Beş zincir çekiniz. Resim 4.2.13.</p>	 <p>Resim 4.2.13.</p>
<p>➤ Tıgı birinci sırada yapmış olduğunuz çift kroşenin üzerindeki zincirden üç ilmek atlayarak dördüncü ilmeğe batırınız. Resim 4.2.14.</p>	 <p>Resim 4.2.14.</p>

<p>➤ Bir çift kroşe yapınız. Resim 4.2.15.</p>	 <p>Resim 4.2.15.</p>
<p>➤ 3. işlem basamağından itibaren sıranın sonuna kadar tekrarlayınız. Resim 4.2.16.</p>	 <p>Resim 4.2.16.</p>
<p>➤ Beş zincir çekiniz.. Resim 4.2.17.</p>	 <p>Resim 4.2.17.</p>
<p>➤ Tığı bir önceki sırada oluşan yay şeklindeki halkaların ortasına batırınız. Resim 4.2.18.</p>	 <p>Resim 4.2.18.</p>





- Bir çift kroşe yapınız 7. işlem basamağında itibaren sıranın sonuna kadar tekrarlayarak örgüye devam ediniz. Resim 4.2.19.



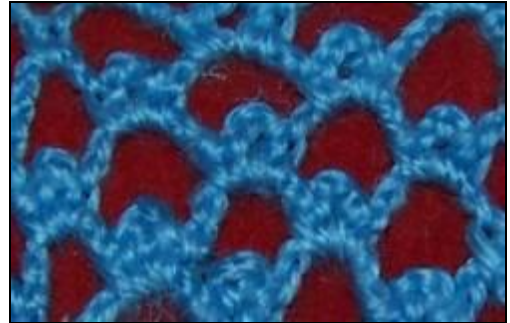


Resim 4.2.19. Yay Şeklinde File

UYGULAMA FAALİYETİ-3

Aşağıda Pikolu File uygulamasını yapınız.

İşlem Basamakları	Öneriler
<ul style="list-style-type: none">➤ Zincir çekiniz.	<ul style="list-style-type: none">➤ İsteddiğiniz uzunlukta temel teşkil edecek şekilde çekiniz.
<ul style="list-style-type: none">➤ Tıgı temel zincirden geriye doğru altıncı ilmeğe batırınız. Resim 4.3.20.	 <p>Resim 4.3.20.</p>
<ul style="list-style-type: none">➤ Bir yüz ilmek çekiniz. Resim 4.3.21.	 <p>Resim 4.3.21.</p>
<ul style="list-style-type: none">➤ Zincir ilmeği bir basit kroşe ile temel zincire bağlayınız.➤ Dört zincir çekiniz. Resim 4.3.22.	 <p>Resim 4.3.22.</p>
<ul style="list-style-type: none">➤ Altı zincir çekiniz➤ Tıgı temel zincirden üç ilmek atlayarak dördüncüye batırınız. Resim 4.3.23.	 <p>Resim 4.3.23.</p>

<ul style="list-style-type: none">➤ 5. ve 6. işlem basamaklarını tekrarlayınız.➤ 7. işlem basamağından itibaren sıra sonuna kadar tekrarlayınız.	<ul style="list-style-type: none">➤ İşinizi çevirmeyi unutmayınız
<ul style="list-style-type: none">➤ İşlem yüksekliği vermek için altı zincir çekiniz. Resim 4.3.24.	 <p style="text-align: center;">Resim 4.3.24.</p>
<ul style="list-style-type: none">➤ Tıgı birinci sırada yapmış olduğunuz altı zincirlik yarım halkanın üstüne batırınız➤ Bir basit kroşe yapınız. Resim 4.3.25.	 <p style="text-align: center;">Resim 4.3.25.</p>
<ul style="list-style-type: none">➤ Bir küçük piko yapınız.➤ Birinci sırada yapmış olduğunuz yarım halkaların üstüne bir basit kroşe ve bir küçük piko yaparak örgüye devam ediniz. Resim 4.3.26.	 <p style="text-align: center;">Resim 4.3.26. Fistolu Piko</p>

UYGULAMA FAALİYETİ-4

Aşağıda Çapraz Tunus İlmeği Uygulamasını Yapınız.

İşlem Basamakları

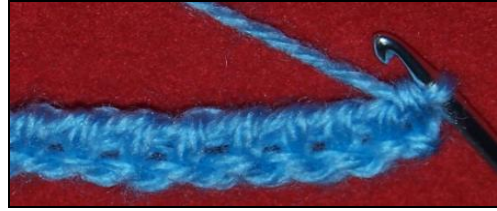
- Zincir çekiniz.
- Tıg üzerine temel zincirin her ilmeğinden bir yüz ilmek alınız Resim 4.4.27.
- Tığın üzerindeki ilmekleri ikişer ikişer kapatınız. Resim 4.4.28.
- Tığı bir önceki sırada oluşan uzun atkı görünüşlü ilmeklerden birinciyi atlayarak ikincinin altından sağdan sola doğru batırınız. Resim 3.4.29.
- Bir yüz ilmek çekiniz. Resim 4.4.30.

Öneriler

- İsteddiğiniz uzunlukta temel teşkil edecek şekilde çekiniz.



Resim 4.4.27.



Resim 4.4.28.



Resim 3.4.29.



Resim 4.4.30.

- Tıđı atladıđınız birinci ilmeđe sađdan sola dođru batırınız.
- Bir yüz ilmek çekiniz. Resim 4.4.31.



Resim 4.4.31.

- Tıđı bir önceki sırada oluşan uzun atkı görünüşlü ilmeklerden üçüncüyü atlayarak dördüncünün altına sađdan sola dođru batırınız. Resim 4.4.32.



Resim 4.4.32.

- Bir yüz ilmek çekiniz.
- 4. İşlem basamađından itibaren sıra sonuna kadar ilmekleri çaprazlayarak örgüye devam ediniz.






- Tıđı atladıđınız üçüncü ilmeđe sađdan sola dođru batırınız
- Tıđın üzerindeki ilmekleri ikişer ikişer kapatınız.



Resim 4.33. Çapraz Tunus İlmeđi





UYGULAMA FAALİYETİ-5





Aşağıda Jarse Tunus İlmeği Uygulamasını Yapınız.

İşlem Basamakları	Öneriler
<ul style="list-style-type: none">➤ Zincir çekiniz.	<ul style="list-style-type: none">➤ İsteddiğiniz uzunlukta temel teşkil edecek şekilde çekiniz.
<ul style="list-style-type: none">➤ Tığ üzerine temel zincirin her ilmeğinden bir yüz ilmek alınız. Resim 4.5.34.	 <p>Resim 4.5.34.</p>
<ul style="list-style-type: none">➤ Bir yüz ilmekle bir ilmeği toplayınız.➤ Tığ üzerinde kalan ilmekleri ikişer ikişer kapatınız. Resim 4.5.35.	 <p>Resim 4.5.35.</p>
<ul style="list-style-type: none">➤ Tığı bir önceki sırada oluşan uzun atkı görünüşlü ilmeklerin ortasından önden arkaya doğru batırınız. Resim 4.5.36.	 <p>Resim 4.5.36.</p>
<ul style="list-style-type: none">➤ Bir yüz ilmek çekiniz➤ 5. ve 6. işlem basamağını sıranın sonuna kadar tekrarlayınız. Resim 4.5.37.	 <p>Resim 4.5.37.</p>
<ul style="list-style-type: none">➤ Tığ üzerindeki ilmekleri ikişer ikişer kapatınız➤ 5. işlem basamağından itibaren tekrarlayarak örgüye devam ediniz. Resim 4.5.38.	 <p>Resim 4.5.38. Jarse Tunus İlmeği</p>

UYGULAMA FAALİYETİ-6

Aşağıda Üçlü Bağlama Tunus İlmeği Uygulamasını Yapınız.

İşlem Basamakları	Öneriler
<ul style="list-style-type: none">➤ Zincir çekiniz.	<ul style="list-style-type: none">➤ İsteddiğiniz uzunlukta temel teşkil edecek şekilde çekiniz.
<ul style="list-style-type: none">➤ Tığı temel zincirden geriye doğru birinci, ikinci ve üçüncü zincir ortalarına batırarak birer yüz ilmek çekiniz. Resim 4.6.39.	 <p>Resim 4.6.39.</p>
<ul style="list-style-type: none">➤ Tığ üzerindeki ilmekleri ikişer ikişer toplayınız.➤ Tığı 3. işlem basamağında oluşan uzun atkı görünümlü ilmeklerin birinci ve ikinci ilmeğe batırarak birer yüz ilmek çekiniz. Resim 4.6.40.	<ul style="list-style-type: none">➤ Tığ üzerinde üç ilmek olmasına dikkat ediniz.  <p>Resim 4.6.40.</p>
<ul style="list-style-type: none">➤ Tığı temel zincire batırarak bir yüz ilmek çekiniz Resim 4.6.41.	 <p>Resim 4.6.41.</p>
<ul style="list-style-type: none">➤ Tığ üzerinde dört ilmek olmasına dikkat ediniz. Resim 4.6.42.	 <p>Resim 4.6.42.</p>

<p>➤ Tığ üzerindeki ilmekleri ikşer ikişer toplayınız. Resim 4.6.43.</p>	 <p>Resim 4.6.43.</p>
<p>➤ 4. işlem basamağından itibaren sıra sonuna kadar örgüye devam ediniz.</p>	<p>➤ Sıra sonunda ipinizi koparmayı unutmayınız.</p>
<p>➤ İşlem yüksekliği vermek için üç zincir çekiniz. Resim 4.6.44.</p>	 <p>Resim 4.6.44.</p>
<p>➤ İşlem yüksekliği vermek için çekilen birinci ve ikinci zincir üzerinden birer yüz ilmek çekiniz. Resim 4.6.45.</p>	 <p>Resim 4.6.45.</p>
<p>➤ Tığı bir önceki sıranın oluşturduğu yatay zincire batırarak bir yüz ilmek çekiniz Resim 4.6.46.</p>	 <p>Resim 4.6.46.</p>

- Tığ üzerindeki ilmekleri ikşer ikişer toplayınız. 9. İşlem basamağından itibaren tekrarlayarak örgüye devam ediniz. Resim 4.6.47.



Resim 4.6.47.Üçlü Bağlama Tunus İlmeği

ÖLÇME VE DEĞERLENDİRME

Aşağıda verilen cümleleri doğru – yanlış durumuna göre işaretleyiniz.

1. () Zincir desenler, belirli sayılarda çekilen zincirlerin birbiri üzerine, birbirlerinin aralarına farklı şekillerde bağlanması ile oluşturulan desenlerdir.
2. () Desenlerde çekilen zincir sayısına göre küçük veya büyük delikli dokular meydana gelir.
3. () Zincir sayısı az olduğunda büyük delikli sık dokular, zincir sayısı çok olursa küçük delikli seyrek ve gevşek dokular oluşur.
4. () Zincir desenlerde çekilen zincir dizelerinin meydana getirdiği delikler, britlerle doldurularak yeni desenler oluşturulur.
5. () Basit kroşe, çift kroşe ve britlerin zincir dizeleri arasında kullanılmasıyla da değişik örgüler meydana gelir.
6. () Zincir desenlerin kare file, yay şeklinde file ve pikolu file olmak üzere üç farklı şekilde uygulanır.
7. () Tunus ilmeği temel işlemiyle oluşturulan motifler, tunus ilmeğinin üzerindeki atkı görünümlü ilmeklere tığın aynı yönlerde batırılmasıyla meydana gelir.
8. () Tunus ilmeği temel işlemiyle oluşturulan desenler; paralel Tunus ilmeği, ekose Tunus ilmeği, birli bağlama Tunus ilmeği olmak üzere üç farklı şekilde uygulanır.

DEĞERLENDİRME

Cevaplarınızı cevap anahtarıyla karşılaştırınız. Yanlış cevap verdiğiniz ya da cevap verirken tereddüt ettiğiniz sorularla ilgili konuları faaliyete geri dönerek tekrarlayınız. Cevaplarınızın tümü doğru ise bir sonraki öğrenme faaliyetine geçiniz.

MODÜL DEĞERLENDİRME

Aşağıdaki kitap ayracı çalışmasını üzerindeki desenleri uygulayarak yapınız.
(Kitap ayracının ölçüleri 4x15cm ölçülerinde örülüp kenarlarına piko yapılacak)
Bu uygulama faaliyetin de yapmış olduğunuz çalışmayı değerlendirme ölçeğine göre değerlendiriniz



Değerlendirme Ölçütleri	Evet	Hayır
1. Ürüne uygun malzemeyi temin ettiniz mi?		
2. Küçük çiçekli kare motifi ördünüz mü?		
3. Kare motifin etrafındaki britleri ördünüz mü?		
4. Ürün kenarına piko yaptınız mı?		
5. Verilen ölçüde ürünü ördünüz mü?		
6. Tekniklere ve ölçüye uygun kalite kontrolü yaptınız mı?		
7. Zamanı iyi kullandınız mı?		
8. İş kazalarına karşı önlem aldınız mı?		

DEĞERLENDİRME

Bu modüldeki tüm uygulama faaliyetlerini ve modülün sonundaki değerlendirme testini ve uygulama sorusunu başarı ile tamamladıysanız bir sonraki modüle geçiniz.

CEVAP ANAHTARLARI

Cevaplarınızı ařađıdaki cevap anahtarıyla karřılařtırınız ve dođru cevap sayınızı belirleyerek kendinizi deđerlendiriniz. Yanlıř cevapladıđımız sorularla ilgili öğrenme faaliyetinde yer alan konulara geri dönerek eksik bilgilerinizi tamamlayınız.

ÖĐRENME FAALİYETİ 1 CEVAP ANAHTARI

Sorular	Cevaplar
1	Y
2	D
3	Y
4	D
5	Y
6	D
7	D

ÖĐRENME FAALİYETİ 2 CEVAP ANAHTARI

Sorular	Cevaplar
1	D
2	Y
3	D
4	Y
5	D
6	D
7	D

ÖĞRENME FAALİYETİ 3 CEVAP ANAHTARI

Sorular	Cevaplar
1	D
2	Y
3	D
4	D
5	Y
6	D
7	Y

ÖĞRENME FAALİYETİ 4 CEVAP ANAHTARI

Sorular	Cevaplar
1	D
2	D
3	Y
4	D
5	D
6	D
7	Y

KAYNAKÇA

- GÜLMEZ Servet **Yayınlamamış Çalışmalar** 1999–2002
- **YILDIRIM İMKB Anadolu Kız Meslek Ve Kız Meslek Lisesi-Arşiv Ürünleri**
- ATAY Ayten **Örücülük Kitabı** Milli Eğitim Basımevi 1987
- AKBİL Fatma **Türk El Sanatlarından Örnekler** 1970
- DİNÇSOY Semiha POLAT Ayla **Örgü İşleri** Milli Eğitim Basımevi 1967
- KAYA Ayşe **Yayınlamamış Çalışmalar** 1999
- ÖKTEN Fatma **Yayınlamamış Çalışmalar** 1989-1990

